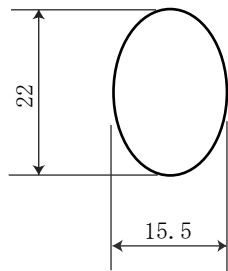
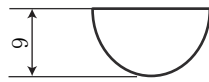


令和6年度 宝石加工：ジュニア・ジュエリーマスター実技試験問題①

(問) 次の図面に従い、与えられた材料で制作してください。

制作時間：3時間



注意事項

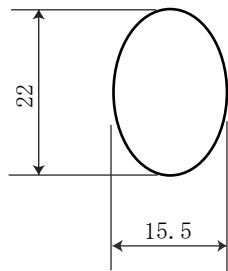
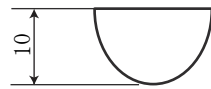
- ・表面はすべて磨き仕上げとすること
- ・ガードル研磨機は使用しないこと
- ・底面のエッジは糸面取りすること
- ・問題用紙は試験終了後提出すること
- ・作品は、作品容器に入れること

1	白水晶、 t = 11、27×22	
No.	配布材料	
ジュニア・ジュエリーマスター	1 / 1	オーバル・シングルカボッション
宝石加工 (実技)	三角法	令和6年度
山梨県ジュエリーマスター認定試験		

令和6年度 宝石加工：ジュニア・ジュエリーマスター実技試験問題②

(問) 次の図面に従い、与えられた材料で制作してください。

制作時間：3時間



注意事項

- ・表面はすべて磨き仕上げとすること
- ・ガードル研磨機は使用しないこと
- ・底面のエッジは糸面取りすること
- ・問題用紙は試験終了後提出すること
- ・作品は、作品容器に入れること

1	白水晶、 t = 11、27×22	
No.	配布材料	
ジュニア・ジュエリーマスター	1 / 1	オーバル・シングルカボッション
宝石加工 (実技)	三角法	令和6年度
山梨県ジュエリーマスター認定試験		