

数をいろいろな表し方で表してみよう

例えば、28 の表し方を考えてみると・・・

- ① 28は、「30より2小さい数」
- ② 28は、「4と7をかけた数」
- ③ 28は、「10を2つと、1を8つを合わせた数」 など

ひとつの数でも
いろいろな表し方が
できますね。



自分で数をきめて、いろいろな表し方で表してみましょう。



身の回りには
いろいろな形が
ありますね。

身の回りには、どんな形があるのかな

○次の形をしたものをさがしてみましょう。



長方形
窓, つくえ,

正方形
さいころ,

円
時計, はんこ,

ほかにどんな形がありますか? ひし形? 平行四辺形?・・・

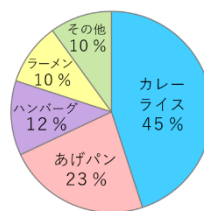
身の回りから表やグラフをさがしてみよう

身の回りには、いろいろな種類の
表やグラフがありますね。新聞など
から探すのも、おもしろいですよ。

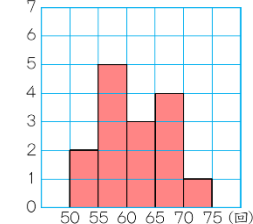
ある月のけがの種類とけがをした場所 (人)

けがの種類	校庭	体育館	教室・ろう下	合計
すりきず	8	5	0	13
切りきず	1	1	2	4
打ばく	2	6	1	9
合計	11	12	3	26

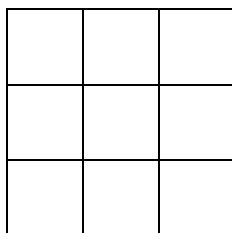
好きな給食のメニュー



(日)とんだ回数のヒストグラム



○それぞれの数は、何を表しているのかな?
表やグラフから分かることは何かな?



「まほうじん」にちょうせん!

4×4マスにすると?
・・・5×5マスにすると?

○1～9までの数を、全部使って、たて、横、
斜めにたして同じ数になるようにマスに
いれてみましょう。



ほかにも・・・

- ★授業でやった問題
や練習問題をもう
一度ノートにやっ
てみましょう。
- ★教科書の練習問題
をもう一度やっ
てみましょう。

進んでちょうせんして、
力をつけよう!